

# PAS - COSTRUZIONE DI MACCHINE

## PROGRAMMA

LEZ. 1

- SISTEMI DI FORZE, RICHIAMI DI STATICA, CINEMATICA E DINAMICA: DEFINIZIONI E LEGGI FONDAMENTALI. LAVORO, ENERGIA, POTENZA, RESISTENZE PASSIVE: ATTRITO RADENTE E VOLVENTE, RESISTENZA NEL MEZZO (2 LEZIONI)
- MECCANICA APPLICATA ALLE MACCHINE: COPPIE CINEMATICHE E MECCANISMI. FORZE AGENTI SULLE MACCHINE: LAVORO MOTORE, LAVORO RESISTENTE, BILANCIO ENERGETICO E RENDIMENTO (2 LEZIONI)
- ORGANI PER LA TRASMISSIONE DELLA POTENZA: RUOTE DENTATE, CINGHIE, FUNI METALLICHE E CATENE, ACCENNI A TRIBOLOGIA E LUBRIFICAZIONE (1 LEZIONE)
- RESISTENZA DEI MATERIALI: LEGGE DI HOOKE, PROVA DI TRAZIONE, TIPI METALLI STRUTTURALI, TIPI DI SOLLECITAZIONE, CRITERI DI RESISTENZA, TEORIA DELLE TRAVI, CONCENTRAZIONE DELLE TENSIONI, RESISTENZA A FATICA (2 LEZIONI)
- DIMENSIONAMENTO E VERIFICA DI ORGANI DI MACCHINE E DI SEMPLICI MECCANISMI (RUOTE DENTATE, PERNI, ALBERI, SUPPORTI, GIUNTI, INNESTI, MOLLE) (2 LEZIONI)



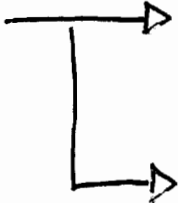
- ESEMPI DI COSTRUZIONE DI MACCHINE: RIDUTTORI AD INGRANAGGI; MECCANISMO DI BIELLA - MANOVELLA E ALBERO A GOMITI CON VOLANO; APPARECCHI DI SOLLEVAMENTO (2 LEZIONI)

- VISITA AI LABORATORI (E VIDEO DIMOSTRATIVI)  
(1 LEZIONE)

LEZ. 01 - SISTEMI DI FORZE E RICHIAMI DI STATICA

FORZA  $\rightarrow$  VETTORE: MODULO (E UNITA' DI MISURA)  
DIREZIONE E VERSO  
P.TO DI APPLICAZIONE

SISTEMA DI FORZE: E' UN INSIEME DI FORZE  
PIU' FORZE CONSIDERATE  
COMPLESSIVAMENTE

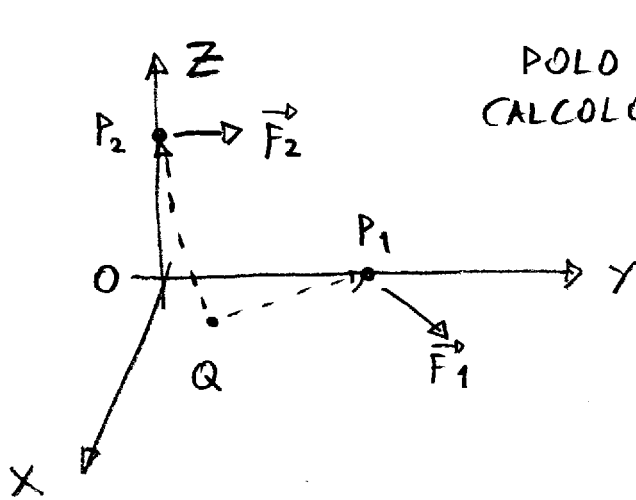
SISTEMA DI FORZE  RISULTANTE  
MOMENTO RISULTANTE  
(RISPETTO AD UN POLO DI CALCOLO)

RISULTANTE: SOMMA (VETTORIALE) DI TUTTE LE  
FORZE DEL SISTEMA

MOMENTO: PRODOTTO VETTORIALE FRA BRACCIO E FORZA  
(DI UNA FORZA)

MOM. RISULTANTE: SOMMA (VETTORIALE) DEI MOMENTI DI  
TUTTE LE FORZE DEL SISTEMA

# ESEMPIO SISTEMA TRIDIMENSIONALE



POLO DI CALCOLO  $\rightarrow$   $O = (0, 0, 0)$  m  
 $Q = (1, 1, 0)$  m

$$P_1 = (0, 4, 0) \text{ m}$$

$$P_2 = (0, 0, 3) \text{ m}$$

$$F_1 = (10, 10, 0) \text{ N}$$

$$F_2 = (0, 7, 0) \text{ N}$$

RISULTANTE

$$\begin{aligned} \vec{R} &= \vec{F}_1 + \vec{F}_2 = \\ &= (10, 10, 0) + (0, 7, 0) = (10, 17, 0) \text{ N} \end{aligned}$$

BRACCIO DI CIASCUNA FORZA

$$\overline{QP_1} = \overline{OP_1} - \overline{OQ} = (0, 4, 0) - (1, 1, 0) = (-1, 3, 0)$$

$$\overline{QP_2} = \overline{OP_2} - \overline{OQ} = (0, 0, 3) - (1, 1, 0) = (-1, -1, 3)$$

MOMENTO: PRODOTTO VETTORIALE BRACCIO X FORZA

$$\vec{M}_1 = \overline{QP_1} \times \vec{F}_1 = \begin{vmatrix} \hat{x} & \hat{y} & \hat{z} \\ -1 & 3 & 0 \\ 10 & 10 & 0 \end{vmatrix} = \hat{x} \begin{vmatrix} 3 & 0 \\ 10 & 0 \end{vmatrix} - \hat{y} \begin{vmatrix} -1 & 0 \\ 10 & 0 \end{vmatrix}$$

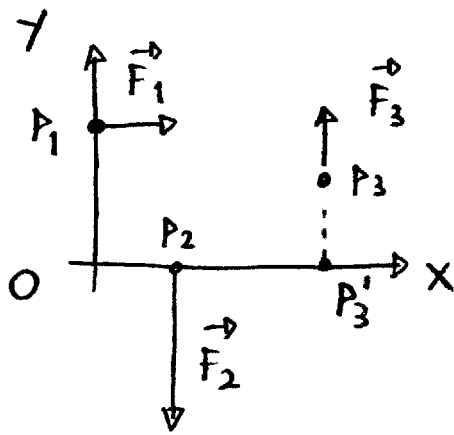
$$+ \hat{z} \begin{vmatrix} -1 & 3 \\ 10 & 10 \end{vmatrix} = (0, 0, -10 - 30) = (0, 0, -40) \text{ N m}$$

$$\vec{M}_2 = \overline{QP_2} \times \vec{F}_2 = \begin{vmatrix} \hat{x} & \hat{y} & \hat{z} \\ -1 & -1 & 3 \\ 0 & 7 & 0 \end{vmatrix} = \hat{x} \begin{vmatrix} -1 & 3 \\ 7 & 0 \end{vmatrix} - \hat{y} \begin{vmatrix} -1 & 3 \\ 0 & 0 \end{vmatrix}$$

$$+ \hat{z} \begin{vmatrix} -1 & -1 \\ 0 & 7 \end{vmatrix} = (-21, 0, -7) \text{ N m}$$

$$\vec{M} = \vec{M}_1 + \vec{M}_2 = (-21, 0, -47) \text{ N m}$$

# ESEMPIO SISTEMA PIANO



$$\vec{F}_1 = (5, 0) \text{ N}$$

$$\vec{F}_2 = (0, -10) \text{ N}$$

$$\vec{F}_3 = (0, 5) \text{ N}$$

$$P_1 = (0, 3) \text{ m}$$

$$P_2 = (1, 0) \text{ m}$$

$$P_3 = (4, 1.5) \text{ m}$$

$$M = ?$$

(POLO: O)

RIAPPLICARE LA REGOLA

$$\text{ES. } \vec{M}_1 = \begin{vmatrix} \hat{x} & \hat{y} & \hat{z} \\ 0 & 3 & 0 \\ 5 & 0 & 0 \end{vmatrix} = \hat{x} \begin{vmatrix} 3 & 0 \\ 0 & 0 \end{vmatrix} - \hat{y} \begin{vmatrix} 0 & 0 \\ 5 & 0 \end{vmatrix} + \hat{z} \begin{vmatrix} 0 & 3 \\ 5 & 0 \end{vmatrix}$$

RIMANE UNA SOLA COMPONENTE  $= (0, 0, -15)$   
 (SECONDO  $\hat{z}$ ) COME SE FOSSE UNO SCALARE:  $\text{Nm}$

SI PUO' CALCOLARE COME PRODOTTO FRA BRACCIO MINIMO E MODULO. BRACCIO MINIMO: PERP. ALLA FORZA  
 VERSO: + ANTIORARIO, - ORARIO

$$M_1 = -3 \times 5 = -15 \text{ Nm}$$

$$M_2 = -1 \times 10 = -10 \text{ Nm}$$

↑  
MODULO

$$M_3 = 4 \times 5 = 20 \text{ Nm}$$

↑  
 $\overline{OB'}$   
 MODULO DEL  
 BRACCIO MINIMO

MOMENTO RESULTANTE  
 ↓  
 $M = M_1 + M_2 + M_3 =$

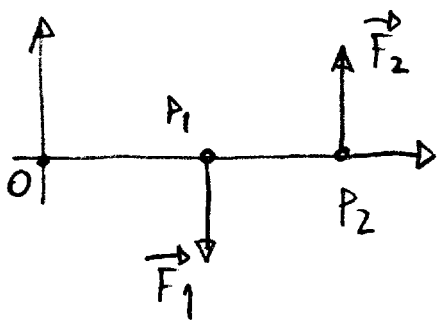
$$= -15 - 10 + 20 =$$

$$= -5 \text{ Nm}$$

IL MOMENTO (E QUINDI ANCHE IL MOMENTO RISULTANTE)  
 DIPENDE DAL POLO. SE SCELGO UN ALTRO POLO IL MOMEN-  
 TO CAMBIA. SI DIMOSTRA CHE:

$$M_{Q'} = M_Q + \vec{Q'Q} \times \vec{R}$$

QUESTA FORMULA PERMETTE DI PASSARE DAL POLO Q AL POLO Q'  
 ESISTE UN PARTICOLARE SIST. DI FORZE PER CUI IL MOMENTO  
 NON DIPENDE DAL POLO: COPPIA DI FORZE



$$\vec{F}_1 = -\vec{F}_2 \quad (F_1 = F_2)$$

STESSA DIREZIONE E MODULO  
 MA VERSO OPPOSTO

$$M = M_1 + M_2 \quad \text{NON DIPENDE DAL POLO DATO CHE } \vec{R} = 0$$

ES. POLO O

$$M = -OP_1 F_1 + OP_2 F_2$$

$$= -OP_1 F_1 + OP_2 F_1$$

$$= (-OP_1 + OP_2) F_1$$

$$= \underline{P_1 P_2} F_1$$

SCOMPARE IL POLO O

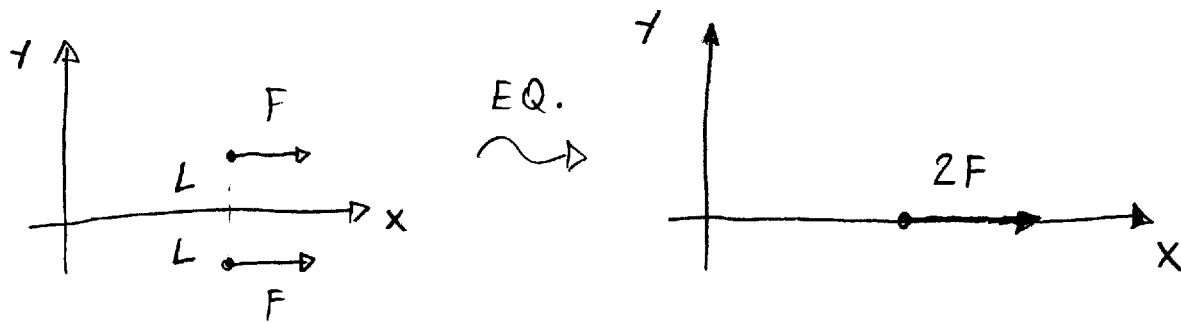
COPPIA: IL MOMENTO E' PARI A FORZA PER LA DISTANZA  
 FRA I DUE VETTORI

### SISTEMI DI FORZE EQUIVALENTI

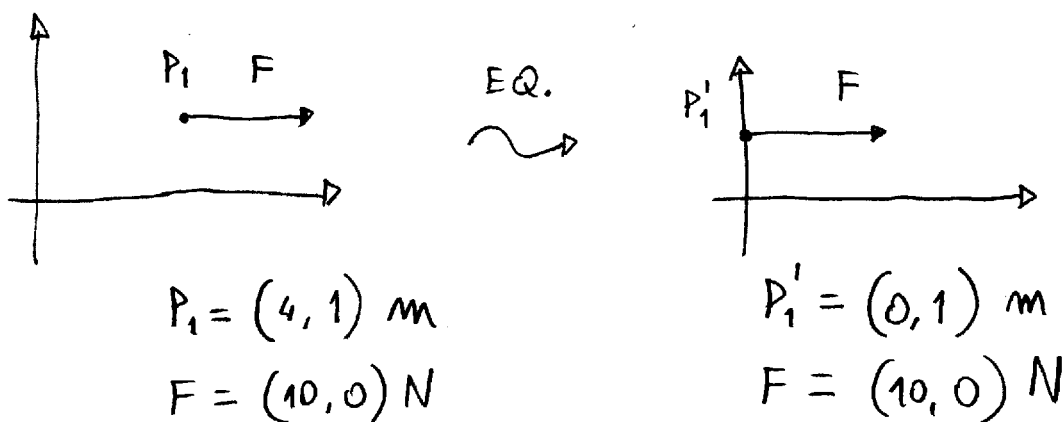
DUE SIST. SONO EQ. SE HANNO STESSA RISULTANTE  
 E STESSO MOM. RISULTANTE RISPETTO AD OGNI POLO

PER LA FORMULA DI PASSAGGIO DA UN POLO ALL'ALTRO  
 SE DUE SISTEMI HANNO STESSA RISULTANTE E STESSO  
 MOMENTO RISPETTO AD UN POLO ALLORA HANNO STESSO  
 MOMENTO RISPETTO AD UN QUALSIASI ALTRO POLO

# ESEMPIO DI SISTEMI EQUIVALENTI

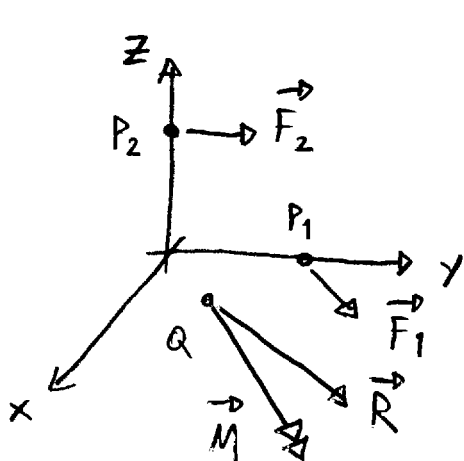


ALTRO ESEMPIO: TRASLAZIONE DI UNA FORZA LUNGO LA SUA RETTA D'AZIONE



## RIDUZIONE DI UN SISTEMA (DI FORZE) AD UN PUNTO (FONDAMENTALE PER LA TH. DELLE TRAVI)

DATO UN SIST. DI FORZE E UN P.TO SI OTTIENE UN SIST. EQUIVALENTE APPLICANDO LA RISULTANTE A QUEL PUNTO E AGGIUNGENDO UNA COPPIA PARI AL MOMENTO RISULTANTE DEL SISTEMA CALCOLATO PROPRIO RISPETTO A QUEL PUNTO



I SISTEMI  $\vec{F}_1$  E  $\vec{F}_2$  E  $\vec{R}$  E  $\vec{M}$  SONO EQUIVALENTI

NOTA:  $\vec{M}$  RAPPRESENTA UNA (QUALUNQUE) COPPIA DI FORZA DI MOMENTO  $\vec{M}$  E QUINDI NON HA SENSO IL P.TO DI APPLICAZIONE, PER COMODITÀ SI APPLICA A Q

# STATICA

→ LEGGE FONDAMENTALE DELLA STATICA DEL PUNTO MATERIALE

IL P.TO MATERIALE E' UN CORPO DI DIMENSIONI TRASCURABILI SISPETTO ALLE DIMENSIONI DEL PROBLEMA

ESEMPIO: UN PIANETA CHE E' PICCOLO RISPETTO ALLA SUA ORBITA

NON AVENDO DIMENSIONI IL P.TO MATERIALE PUO' SOLO SUBIRE FORZE CHE HANNO COME PUNTO DI APPLICAZIONE IL PUNTO STESSO

AFFINCHE' IL P.TO MATERIALE SIA IN EQUILIBRIO STATICO E' NECESSARIO CHE LA RISULTANTE DI TUTTE LE FORZE RIA NULLA

$$\vec{R} = \sum_i \vec{F}_i = 0$$

→ LEGGE FONDAMENTALE DELLA STATICA DEL CORPO RIGIDO

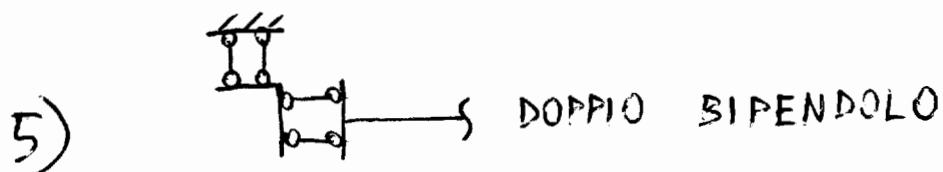
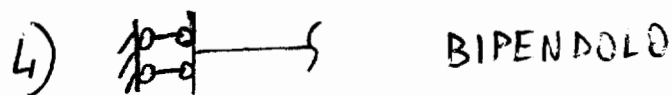


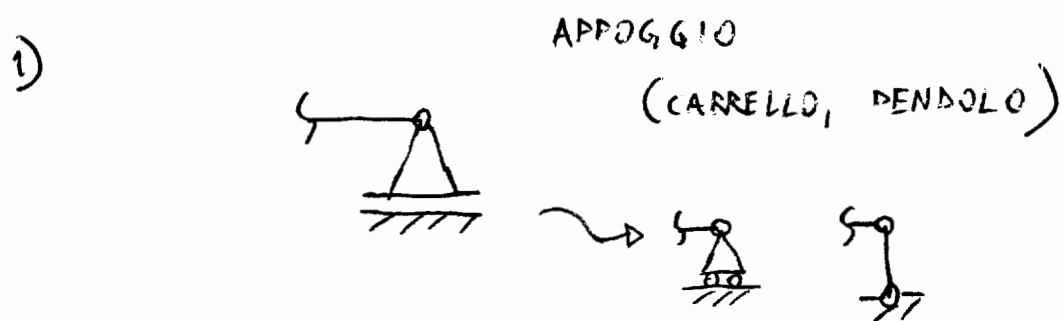
IL CORPO RIGIDO E' INVECE "ESTESO", DIMENSIONI NON PIU' TRASCURABILI, CON LA PROPRIETA CHE QUALUNQUE SUA COPPIA DI PUNTI MANTIENE SEMPRE LA STESSA DISTANZA

AFFINCHE' IL CORPO RIGIDO SIA IN EQUILIBRIO STATICO E' NECESSARIO CHE IL SISTEMA DI FORZE SIA EQUIVALENTE AD UN SISTEMA NULLO:

$$\vec{R} = 0 \quad \vec{M}_Q = 0 \quad \left( \begin{array}{l} Q \text{ POLO DI CALCOLO} \\ \text{QUALUNQUE} \end{array} \right)$$

IL SISTEMA DI FORZE CHE AGISCE SUL CORPO  
COMPRENDE TUTTE LE FORZE ANCHE LE REAZIONI  
VINCOLARI


### TIPI DI VINCOLO (PIANO)





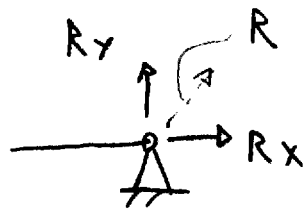
# 1) APPOGGIO

IMPEDISCE LO SPOSTAMENTO SECONDO UNA SOLA DIREZIONE (COMUNQUE BILATERALE) INTRODUCENDO UNA REAZIONE VINCOLARE: UNA FORZA OPPORTUNA TALE DA IMPEDIRE LO SPOSTAMENTO DI QUEL PUNTO



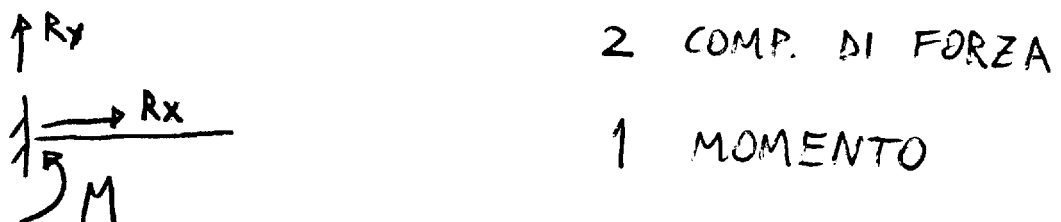
# 2) CERNIERA

IMPEDISCE LO SPOST. IN ENTRAMBE LE DIREZ. ALTRETTANTE COMPONENTI DI FORZA



# 3) INCASTRO

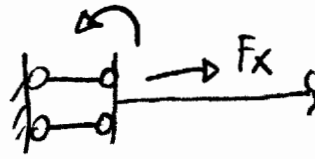
IMPEDISCE, OLTRE ALLO SPOST. SECONDO ENTRAMBE LE DIREZIONI, ANCHE LA ROTAZIONE



M HA IL SIGNIFICATO DI UNA COPPIA, DI MOMENTO M (INDIPENDENTEMENTE DAL POLO)


#### 4) BIPENDOLO

IMPEDISCE LO SPOSTAMENTO SECONDO LA DIREZIONE DEI PENDOLI (PARALLELI) E ANCHE LA ROTAZIONE



#### 5) DOPIO BIPENDOLO

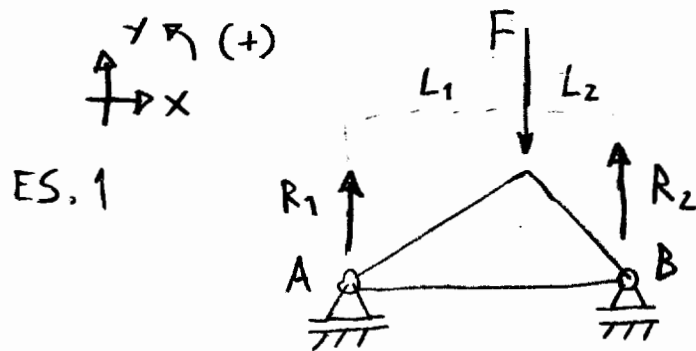
IMPEDISCE SOLO LA ROTAZIONE, NON IMPEDISCE GLI SPOSTAMENTI



LE REAZ. VINCOLARI AGISCONO PER RIPRISTINARE L'EQUILIBRIO

$R_1, R_2, F$  FORMANO UN SISTEMA DI FORZE EQUILIBRATO

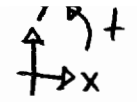
SI PUO' QUINDI IMPOSTARE UN SISTEMA E DEDURRE LE REAZIONI INCOGNITE



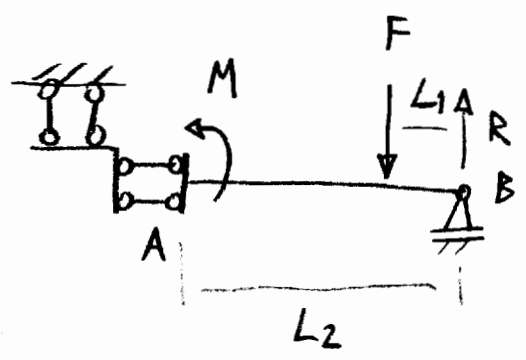
$$\begin{cases} R_1 + R_2 - F = 0 \\ 0 \times R_1 + R_2 (L_1 + L_2) - F L_1 = 0 \end{cases}$$

POLO RISPETTO AD A

$$\begin{cases} R_2 = F \frac{L_1}{L_1 + L_2} \\ R_1 = F - R_2 = F - F \frac{L_1}{L_1 + L_2} = F \frac{L_2}{L_1 + L_2} \quad (10) \end{cases}$$



ES. 2

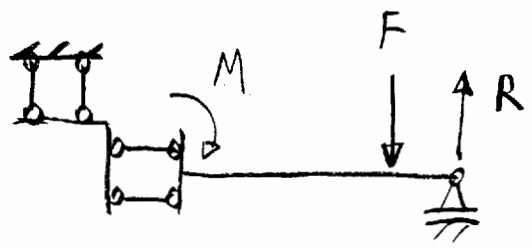


$$\begin{cases} -F + R = 0 \\ FL + M = 0 \end{cases}$$

POLO: B

$$\begin{cases} R = F \\ M = -FL_1 \end{cases}$$

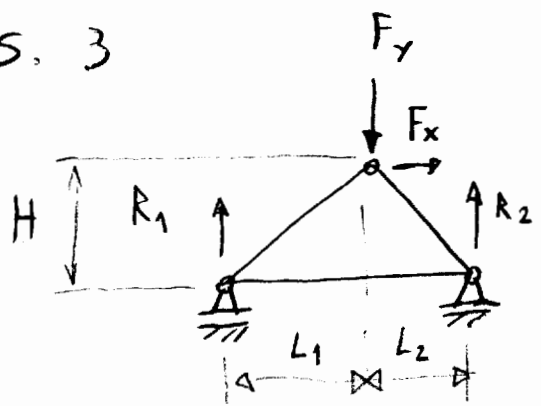
NEL CASO DI UNA REAZIONE NEGATIVA E' CONSIGLIATO RIFARE LO SCHEMA IN MODO CHE IL SIMBOLO COINCIDA CON IL MODULO E LO SCHEMA SIA PIU' CHIARO



$$\begin{aligned} R &= F \\ M &= FL_1 \end{aligned}$$

NOTARE CHE F-R COSTITUISCONO UNA COPPIA E M E' LA CONTROCOPPIA, INOLTRE L1 NON HA RUOLO NELLA SOLUZIONE

ES. 3



STESSO CASO PRECEDENTE CON PERO' Fx

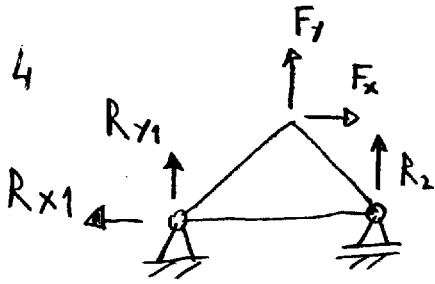
$$\begin{cases} F_x + 0 = 0 \\ R_1 + R_2 - F_y = 0 \\ 0 \times R_1 + R_2(L_1 + L_2) - F_x H - F_y L_1 = 0 \end{cases}$$

IN QUESTO CASO LA SOLUZ. NON ESISTE! -> SISTEMA LABILE

QUALUNQUE COPPIA DI VALORI R1, R2 IL SISTEMA COMPLESSIVO DI FORZE NON HA RISULTANTE NULLA

SOSTITUENDO UN APPOGGIO CON UNA CERNIERA :

ES. 4

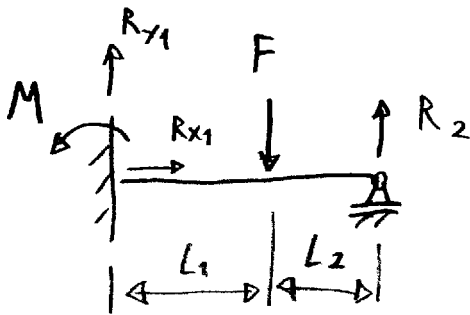


$$\begin{cases} F_x - R_{x1} = 0 \\ R_{y1} + R_2 - F_y = 0 \\ R_2(L_1 + L_2) - F_x H - F_y L_1 = 0 \end{cases}$$

IN QUESTO CASO  
IL SISTEMA TORNA  
AD ESSERE ISOSTATICO  
(UNA ED UNA SOLA SOLUZ.)

$$\begin{cases} R_{x1} = F_x \\ R_2 = \frac{F_x H + F_y L_1}{L_1 + L_2} \\ R_{y1} = F_y - R_2 = \frac{F_y L_2 - F_x H}{L_1 + L_2} \end{cases}$$

ES. 5



$$\begin{cases} R_{x1} = 0 \\ R_{y1} + R_2 - F = 0 \\ M - F L_1 + R_2 (L_1 + L_2) = 0 \end{cases}$$

NOTARE IL SIGNIFICATO DIVERSO  
DI  $(F_x = 0)$  DEL  
CASO PRECEDENTE

POLO: INCASTRO

IN QUESTO CASO ESISTONO  $\infty$  SOLUZIONI :

POSSO SCEGLIERE UN QUALUNQUE VALORE DI  $R_2$  ED AVERE  
DI CONSEGUENZA AVERE  $R_{y1}$ ,  $M$ , OPPURE POSSO  
SCEGLIERE  $M$  COME PARAMETRO

SISTEMA IPERSTATICO

ANALOGIA CON I SISTEMI  
DI EQUAZIONI

SCONSIGLIATO  
IL SISTEMA DEL  
CONTEGGIO DELLA  
NUMEROSITA'  
DEI VINCOLI...

SCHEMI  
DI  
STATICA



SISTEMI DI EQUAZIONI  
LINEARI